

שם: _____

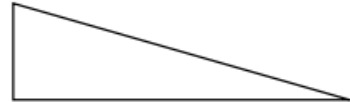
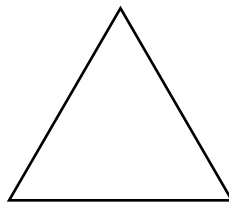
ציון: _____

מבחן בהנדסה

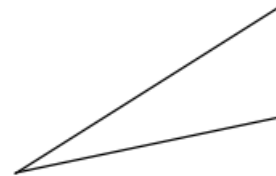
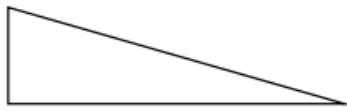
1. כתבי מתחת לכל זווית את שמה:



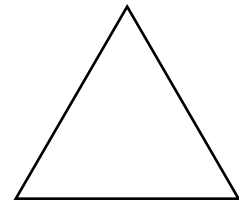
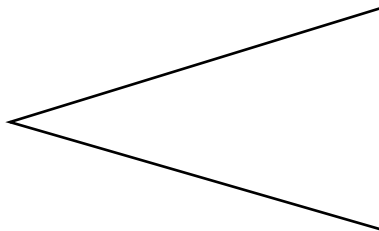
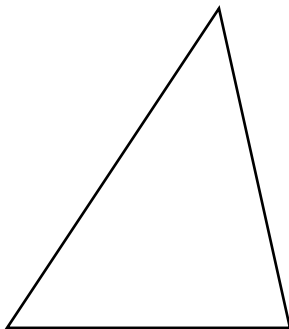
2. הקיפי בעגול את משלש שזה הצלעות:



3. הקיפי בעגול את משלש שזה השוקיים:



4. מתחי קו מכל משלש לשם המתאים לו:

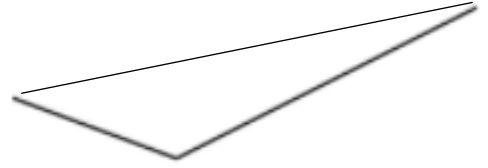
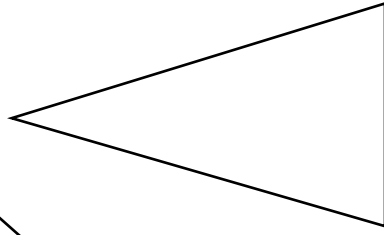
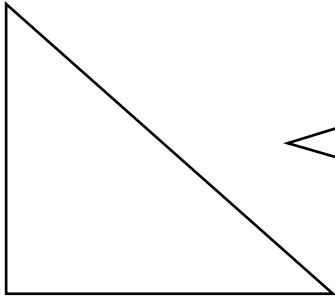


משלש שזה צלעות

משלש שזוה צלעות

משלש שזה שוקיים

5. רשמי ליד כל משלש את שמות הזוויות שלו



6. רשמי ליד כל משפּט – נכון או לא נכון :

- א. במשלש קהה זווית כל הזוויות קהות. - _____
- ב. במשלש חד זווית כל הזוויות חדות - _____
- ג. משלש ישר זווית יכול להיות משלש שווה שוקים - _____
- ד. בכל משלש יש 3 צלעות ו3 קדקודים - _____
- ה. בכל משלש יש לפחות זווית אחת קהה - _____

7. לפניך משלשים שונים :

- א. הקיפי בעגול את המשלש שהוא שווה שוקים.
- ב. צבעי את שתי השוקים השוות באותו הצבע.
- ג. כתבי ליד כל זווית את שמה.
- ד. כתבי ליד כל משלש את שמו.

