
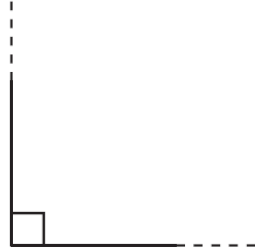
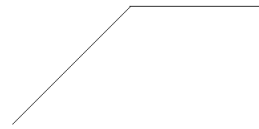


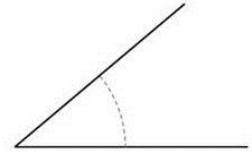
חזרה למבחן בהנדסה

כתבי מתחת לכל זווית את שמה:









למדנו על שלושה סוגי משלשים, ולכל משלש אפשר לקרוא בשתי שמות:

א. לפי הצלעות

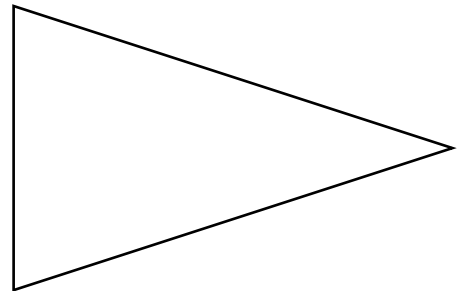
ב. לפי הזוויות

מתחי קו מפל משלש אל השם שלו

משלש שונה צלעות

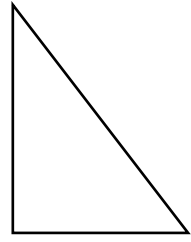
משלש שווה צלעות

משלש שווה זוויות

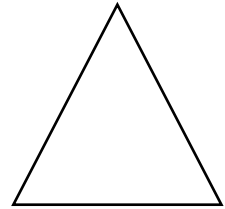


מתחי קו מכל משלש לשמו (לפי זווית)

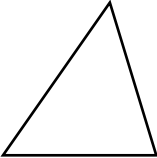
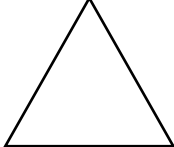
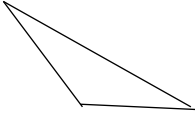
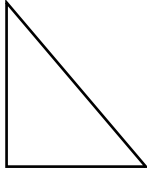
משלש חד זווית



משלש קהה זווית



משלש ישר זווית

				
				שמי
				כמה צלעות יש לי?
				כמה זוויות יש לי?
				שמות הזוויות:

כתבי נכון או לא נכון?

א. משלש ישר זווית יכול להיות משלש שווה שוקים - _____

ב. בכל משלש יש לפחות זווית אחת קהה - _____

ג. במשלש קהה זווית כל הזוויות קהות - _____

ד. בכל משלש יש 3 צלעות ו-3 קדקודים - _____

ה. במשלש חד זווית כל הזוויות חדות - _____

ציירי כל משלש לפי ההוראות:

ציירי משלש שונה שוקים

ציירי משלש שווה שוקים



ציירי משלש עם:

ציירי משלש ישר זווית

זווית אחת קהה

ושתי זוויות חדות

