




מספרים מסתתרים במגילה

כתבו איפה ובאיזה הקשר הזכרו המספרים הנ"ל במגילה



_____	180
_____	3
_____	7
_____	7
_____	12
_____	13
_____	10,000
_____	500
_____	30
_____	2