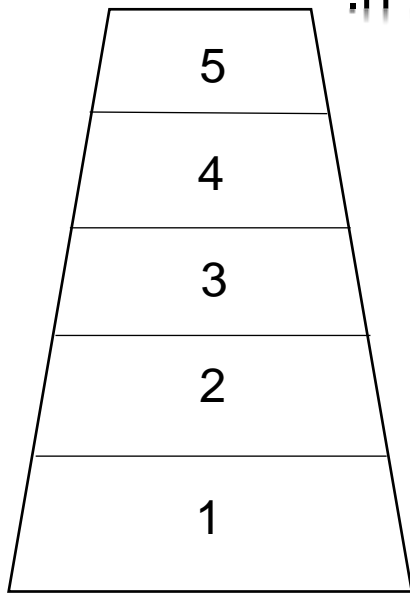


הקניית המושג:

הוספת 1 לספרה.



\*גזור את החיל שבתחתית העמוד.

\*בצע את ההוראות והשלם.

א.

\*הנח את החיל על מספר 1

\*הוסף 1

\*להיכן הגעת? לקומה מספר \_\_\_\_\_  
\* (לקומה שמעל.)

ב.

\*כעת אתה בקומה מספר \_\_\_\_\_

\*הוסף 1

\*להיכן הגעת? לקומה מספר \_\_\_\_\_

התרגיל:  $2 + 1 = \underline{\quad}$



ג.

\*איזו ספרה מגיעה אחר הספרה 4? \_\_\_\_\_

\*הנח את החיל על קומה 4.

\*הוסף 1,

\*להיכן הגעת? לקומה מספר \_\_\_\_\_

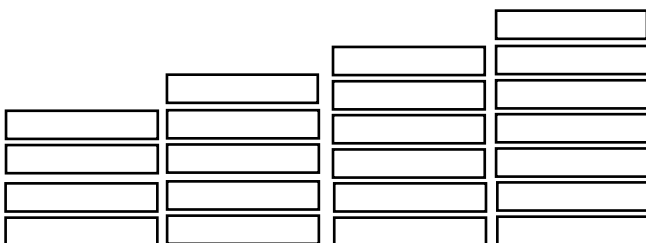
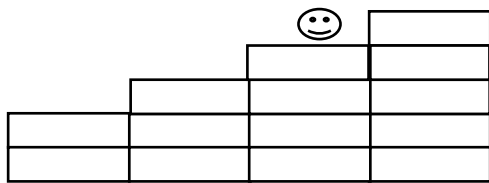

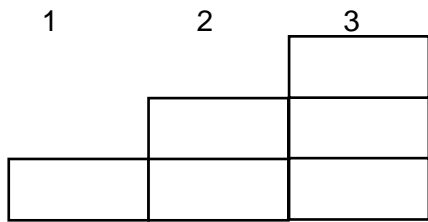
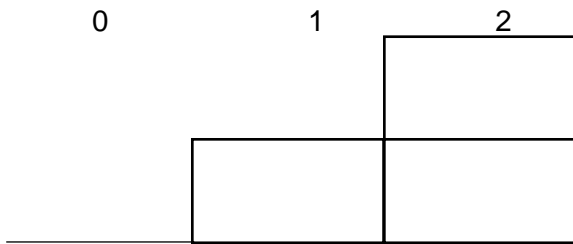
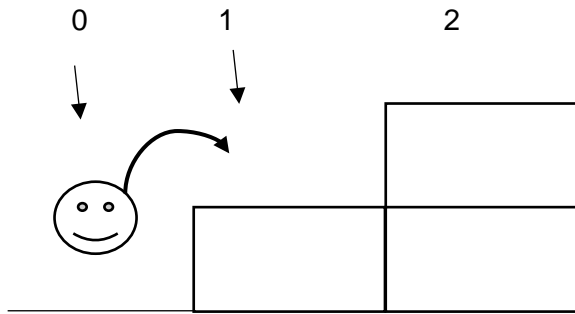
**הכלל:**

כאשר מוסיפים 1 לספרה בתרגיל

מגיעים לספרה הבאה.



# המשך הקניית המושג.



1. אתה כעת במדרגה 0

עלה מדרגה 1

לאיזו מדרגה הגעת? \_\_\_\_\_

תרגיל:  $\underline{\hspace{2cm}} + 1 = \underline{\hspace{2cm}}$

2. עמוד במדרגה מספר 1,

עלה מדרגה 1

לאיזו מדרגה הגעת? \_\_\_\_\_

תרגיל:  $\underline{\hspace{2cm}} + 1 = \underline{\hspace{2cm}}$

3. עמוד במדרגה מספר 2,

עלה מדרגה 1

לאיזו מדרגה הגעת? \_\_\_\_\_

תרגיל:  $\underline{\hspace{2cm}} + 1 = \underline{\hspace{2cm}}$

4. אתה כעת במדרגה מספר 3

עלה מדרגה 1

לאיזו מדרגה הגעת? \_\_\_\_\_

תרגיל:  $\underline{\hspace{2cm}} + 1 = \underline{\hspace{2cm}}$

5. אתה כעת במדרגה מספר \_\_\_\_\_

עלה מדרגה 1

לאיזו מדרגה הגעת? \_\_\_\_\_

תרגיל:  $\underline{\hspace{2cm}} + 1 = \underline{\hspace{2cm}}$

6. עמוד במדרגה מספר 5

עלה מדרגה 1

לאיזו מדרגה הגעת? \_\_\_\_\_

תרגיל:  $\underline{\hspace{2cm}} + 1 = \underline{\hspace{2cm}}$

7. עמוד במדרגה מספר 6

עלה מדרגה 1

לאיזו מדרגה הגעת? \_\_\_\_\_

תרגיל:  $\underline{\hspace{2cm}} + 1 = \underline{\hspace{2cm}}$

## המשך הקניית המושג.

\*גזור את החיוך שבתחתית העמוד,

\*בצע את ההוראות והשלם.

8. עמוד במספר 7,

קפוץ משבצת 1 קדימה,

לאיזה מספר הגעת? \_\_\_\_\_

9. עמוד במספר 8,

קפוץ משבצת 1 קדימה,

לאיזה מספר הגעת? \_\_\_\_\_

10. עמוד במספר 9,

קפוץ משבצת 1 קדימה,

לאיזה מספר הגעת? \_\_\_\_\_

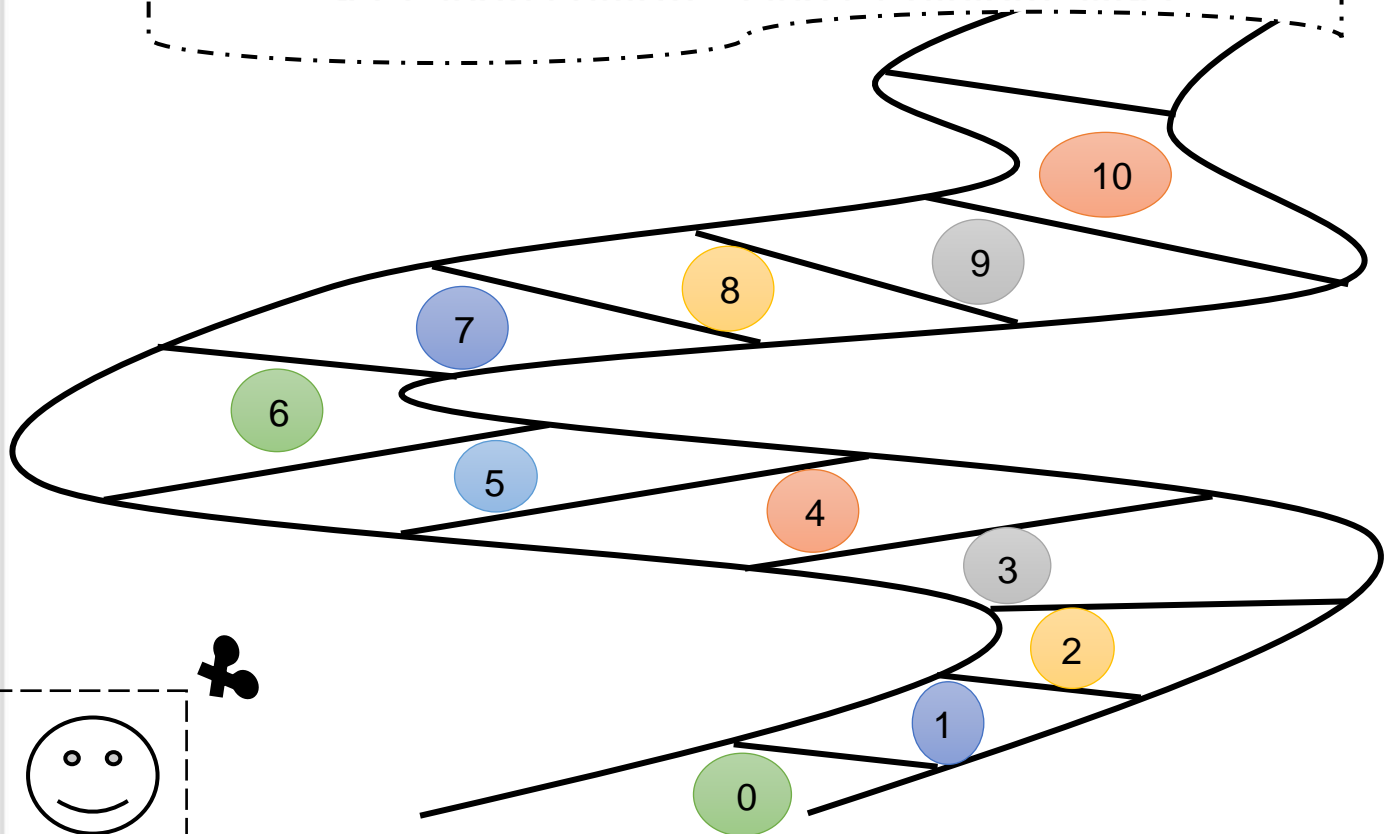
תרגיל: \_\_\_\_\_ + 1 = \_\_\_\_\_

תרגיל: \_\_\_\_\_ + 1 = \_\_\_\_\_

תרגיל: \_\_\_\_\_ + 1 = \_\_\_\_\_


הכלל:

כאשר מוסיפים 1 לספרה, מגיעים למספר הבא.



תרגול: הוספת 1 לספרה.

התאם בין הפרח לאגרטל המתאים:



ספרי את הכוכבים ופתרי את התרגיל:

$3 + =$

$3 + 1 =$

$1 + 2 =$

$1 + 3 =$

$1 + 3 + 5 =$

פתרי את התרגילים שבתוך העננים (היעזרי במסלול)

