

# תרגילי מספרים שליליים

1. פתרי.

$8+(-6)=$

$(-7)+(-3)=$

$5+(-5)=$

$(-8)+6=$

$4+(-6)=$

$(-3)+2=$

2. השלימי.

$(-3) - \square = 0$

$(-2) + \square = 5$

$\square + 1 = 7$

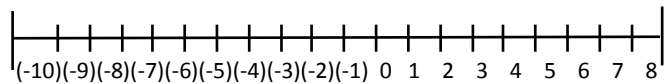
$6 + \square = 3$

$(-1) - \square = 6$

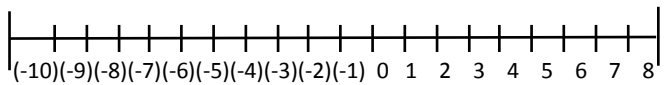
$\square + 7 = 1$

3. פתרי וסמני על ציר המספרים.

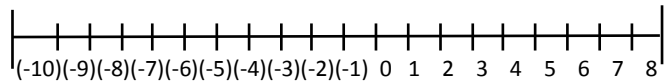
$5+(-1)=$



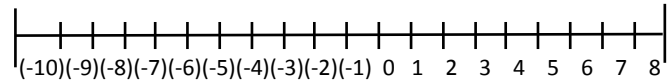
$3-(-2)=$



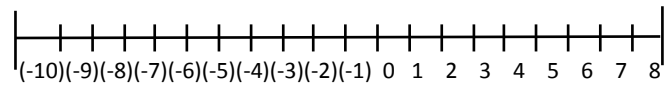
$(-6)+2=$



$(-1)+1=$



$7+(-6)=$



4. מתחי קו בין התרגיל לפתרון.

$(-3)+6=$

$(-5)$

$(-7)-(-2)=$

2

$4+(-2)=$

3

$6-(-3)=$

$(-6)$

$(-8)+2=$