

תרגילי חיבור וחיסור

א. כתבי את התרגיל במאונך ופתרי:

$24+58=$

$29+36=$


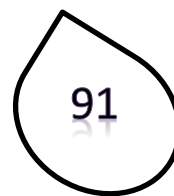


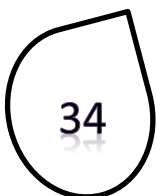
$48+41=$

$83-27=$

$97-38=$

$54-15=$

ב. מתחי קו בין הטיפה לענן המתאים:





ג. כתבי תרגיל מתאים ופתרי:

1. ליואב הירקן היו 30 תפוזים הוא מכר 26 מהם,

כמה תפוזים נותרו ליואב? _____

2. מיכל קנתה חוברת צביעה עם 78 דפים, היא צבעה 34 דפים מתוכם,

כמה דפים נותרו למיכל לצבוע? _____

3. לעידו 39 קלפי משחק, אמו קנתה לו עוד 14 קלפים,

כמה קלפים יש כעת לעידו? _____

4. בגן היו 36 פרחים, בחודש האחרון צמחו עוד 42 פרחים,

כמה פרחים יש בגן? _____

בהצלחה רבה!