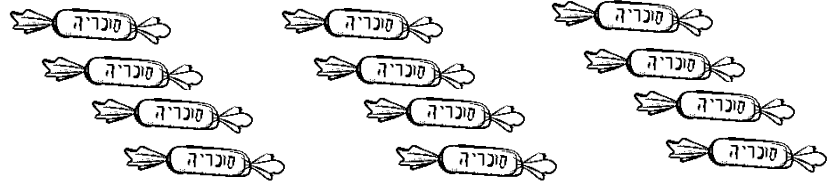


א. השלימי:


1. $4+4+4=$ _____

$4x$ _____ = _____




2. $3+3=$ _____

$3x$ _____ = _____



3. $2+2+2+2=$ _____

$2x$ _____ = _____



ב. צירי עיגולים בהתאם לתרגיל ופתרי:

1. $2x7=$ _____

2. $8x3=$ _____

3. $2x8=$ _____

4. $4x4=$ _____



ג. פתרי את הבעיות:

• ליוסי 2 שקיות בכל שקית 3 סוכריות כמה הסוכריות ליוסי?

• לסבא וסבתא 5 מלונות ובכל אחת 2 כלבים כמה כלבים יש?

• לאברהם 4 בנות לכל אחת 3 בובות. כמה בובות יש בסך הכל?

בהצלחה רבה!!!