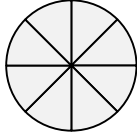
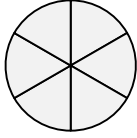
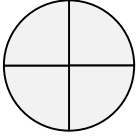
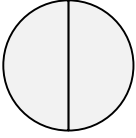




דף עבודה שברים

צבעי בכל אחד מהעיגולים לפי המופיע בתרגיל השבר:

			
$\frac{4}{8}$	$\frac{3}{6}$	$\frac{2}{4}$	$\frac{1}{2}$

פתרי במחברתך .

1. משקל ארגז תפוחים ריק $6\frac{3}{4}$ ק"ג.

משקל תפוחים שבארגז $22\frac{3}{8}$ ק"ג.

מה משקל ארגז התפוחים כולל התכולה שבתוכו? _____.

2. בשיעור התעמלות התחרו בקפיצה לגובה 3 תלמידות.

שושנה קפצה $\frac{3}{4}$ מטר.

מרים קפצה $\frac{3}{6}$ מטר.

דינה קפצה $\frac{1}{2}$ מטר.

א. מה ההפרש בין הגובה שקפצה מרים לגובה שקפצה שושנה? _____.

ב. מה ההפרש בין הגובה שקפצה מרים לגובה שקפצה דינה? _____.

3. תמר קראה ספר במשך שלושה ימים.

ביום א' קראה $\frac{3}{4}$ שעה.

ביום ב' קראה $\frac{1}{2}$ שעה יותר מיום א'.

בסה"כ קראה את הספר במשך 4 שעות.

כמה זמן הקדישה לקריאה ביום ג'? _____.

בהצלחה!!!