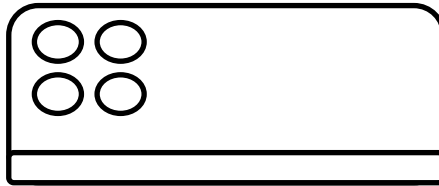
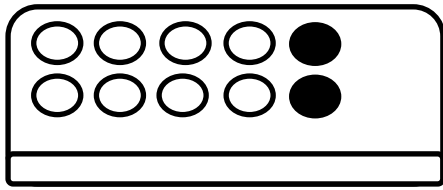
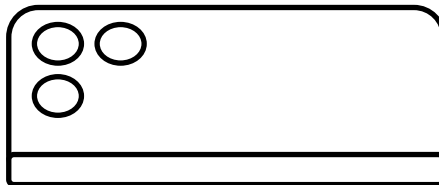
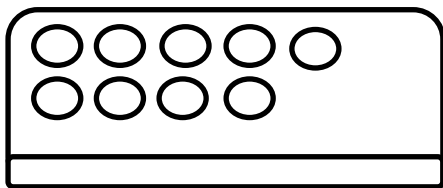


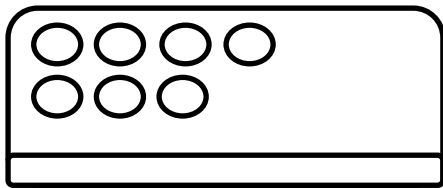
ג. פתרי, צירי והשלימי את התרגילים הבאים באמצעות השלמה ל-
 10: (העזרי בתבניות)




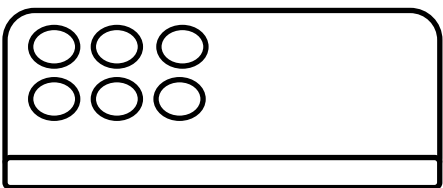
$$\boxed{8} + \boxed{4} = \boxed{12}$$



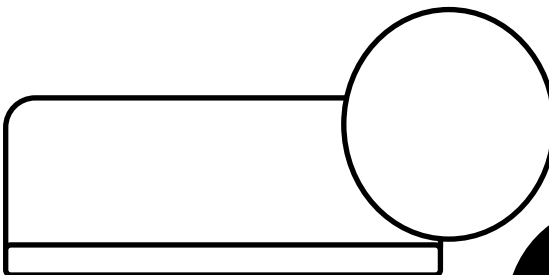
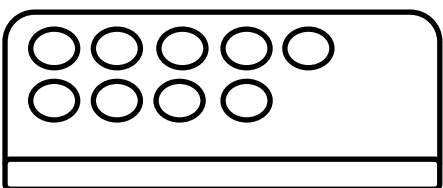
$$\boxed{9} + \boxed{3} = \boxed{}$$




$$\boxed{5} + \boxed{7} = \boxed{}$$



$$\boxed{6} + \boxed{5} = \boxed{}$$



$$\boxed{9} + \boxed{7} = \boxed{}$$





תרגילים שבהם מחברים שתי כמויות קטנות מ-10 והסכום שמתקבל גדול מ-10 נקראים "שבירת עשרת"

לדוגמא:

$8+4=$

א. פתרי והעבירי בין התרגיל לאפרוח המתאים:

תרגילים ללא שבירת עשרת

$8+3=$ _____

$5+4=$ _____

$9+4=$ _____

$7+5=$ _____

תרגילי שבירת עשרת

$8+1=$ _____

$6+6=$ _____

$9+3=$ _____

$4+3=$ _____

ב. המצאי תרגיל מתאים בכל דבורה:

תרגיל עם שבירת עשרת

תרגיל ללא שבירת עשרת

תרגיל ללא שבירת עשרת

תרגיל עם שבירת עשרת