



## דף עבודה בחשבון

חיבור עם שבירת עשרת:



**תרגילים שבהם מחברים שתי כמויות קטנות מ-10  
והסכום שמתקבל גדול מ-10 נקראים:  
"תרגילי שבירת עשרת".**

הסבר:

לחגית היו 9 סוכריות, היא קבלה עוד 5 סוכריות.



חגית לקחה סוכריה אחת מה-5 והעבירה ל-9.



ועכשיו כמה סוכריות יש בכל תיבה? \_\_\_\_\_

תרגיל:






בס"ד

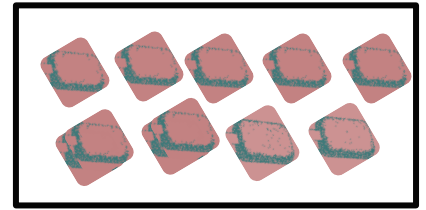
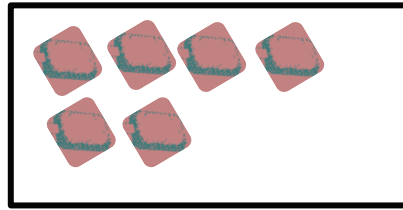
### משחק דידקטי:

בני "תרגילי שבירת עשרת" כרצונך בעזרת התיבות והסוכריות:


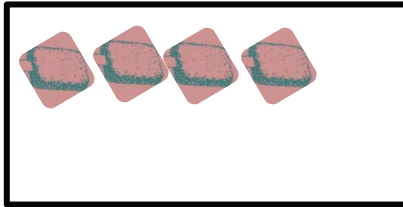


ב. מתחי קן בין התרגיל הנכון לתיבה:



7+6




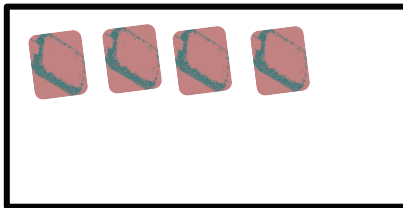
7+4





6+5





8+4



9+5



9+6



ג. האם התרגיל נכון או לא נכון?

סמני X או ✓

8 + 5 = 13

9 + 5 = 18

7 + 4 = 15

6 + 4 = 11

6 + 5 = 11

9 + 3 = 12



**ללמוד ועוד**

גם מסמך זה קיים במאגר "ללמוד ועוד" מבית אחיה- המאגר היהודי הגדול בעולם לתכני לימוד. לקבלת קבצים נוספים פנו ל- [ilimodvaod@achiyah.org.il](mailto:ilimodvaod@achiyah.org.il)