

סדרות

1. השלימי.



קפיצות של 2

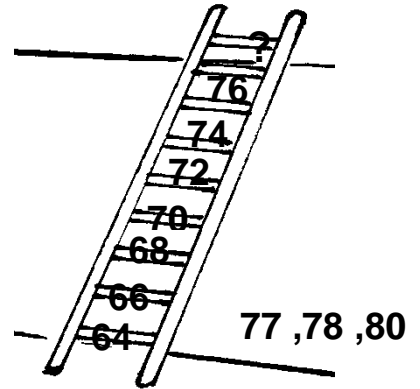
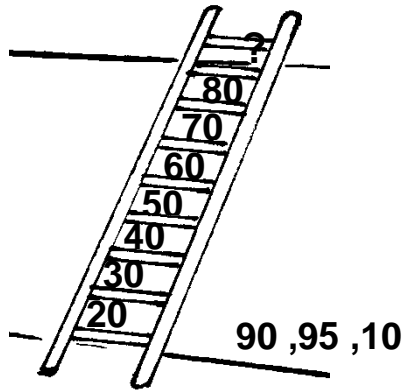
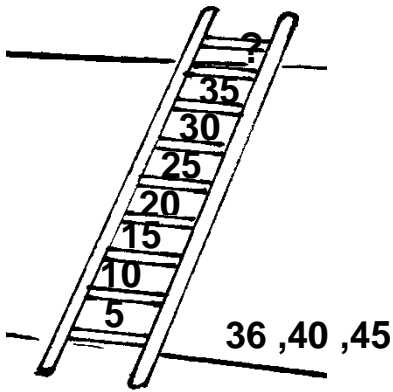


קפיצות של 5



קפיצות של 10

2. הקיפי את המספר הבא בסולם.



3. בכמה קפצתי?



קפצתי ב _____



קפצתי ב _____



קפצתי ב _____