



כפולות 6

א. פתרי את התרגילים:

$6 \times 5 = \underline{\hspace{2cm}}$

$6 \times 1 = \underline{\hspace{2cm}}$



$6 \times 7 = \underline{\hspace{2cm}}$

$6 \times 3 = \underline{\hspace{2cm}}$




$6 \times 6 = \underline{\hspace{2cm}}$

$6 \times 2 = \underline{\hspace{2cm}}$

ב. צבעי בצבע זזה את התרגיל והפּרַח המתאים לו:



6x3
6x8
6x5
6x6
6x9
6x4



ג. קראי ופתרי:

- למשפחת פֶּהַן 6 ילדים לכל ילד 4 סופריות כמה סופריות לכולם יחד?

תרגיל: _____

תשובה: _____

- בכיתה ד' 6 תלמידות לכל תלמידה 3 ספרים כמה ספרים יש בכיתה?

תרגיל: _____

תשובה: _____