



א.מתחי קו בין תרגיל לבין התוצאה:

א. $\frac{10}{5}$

2

ב. $\frac{7}{5}$

3

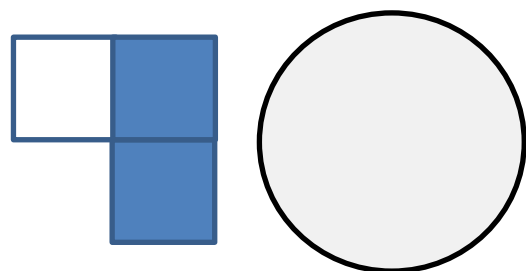
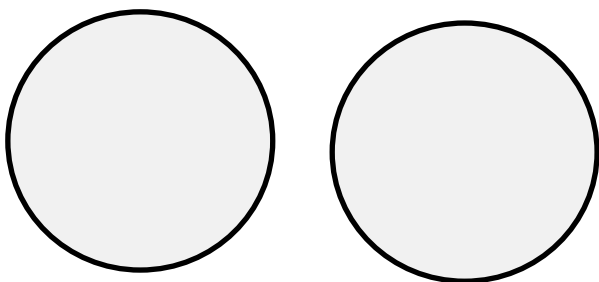
ג. $\frac{8}{2}$

4


ד. $\frac{9}{3}$

$1\frac{2}{5}$

ב.הקיפי את הצורות המבטאות $\frac{2}{3}$




סמני את המלבנים שבהם החלק הצבוע הוא: $\frac{3}{4}$





ג. חלקי וצבעי את העיגולים לפי השברים



א. $2 \frac{1}{8}$

ב. $1 \frac{3}{6}$

ג. $3 \frac{2}{6}$

ד. $1 \frac{2}{8}$

ד. הוצאי מתוך השברים את השבר השלם:

א. $\frac{10}{5}$

ב. $\frac{8}{2}$

ג. $\frac{20}{10}$

ד. $\frac{6}{2}$

ה. $\frac{12}{6}$

ו. $\frac{8}{4}$

ז. $\frac{10}{2}$

ח. $\frac{9}{3}$