

צמצום שברים

א. צמצמי את השברים הבאים:

1. $\frac{5}{10}$

2. $\frac{3}{6}$

3. $\frac{6}{12}$

4. $\frac{4}{8}$

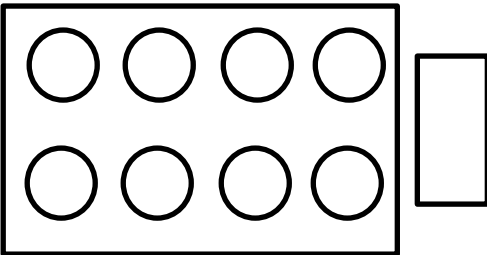
5. $\frac{2}{4}$

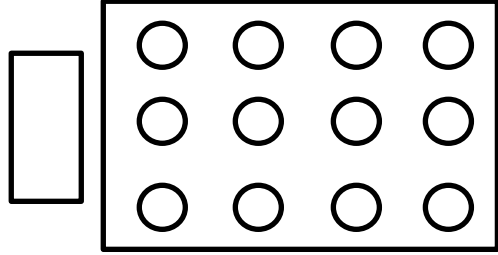
6. $\frac{3}{3}$

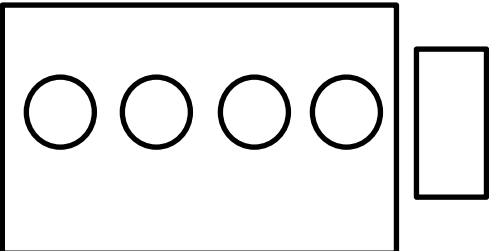
7. $\frac{3}{9}$


8. $\frac{2}{6}$

ב. בכל ריבוע סמני חלוקה ל-4 קבוצות שוות וכתבי ליד כל קבוצה את השבר המתאים:







1. 

3. 

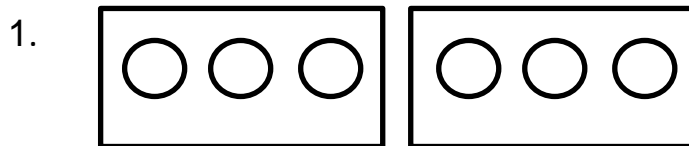
2. 

4. 

ג. לפניך 6 פיצות המחולקות ל 8 חתיכות צבעי כל פיצה כרצונך וכתבי תרגיל מתאים:



ד. מתחי קו בין תרגיל לבין ציור:



1. 6:2



2. 12:6



3. 6:3



4. 4:4

