



א. לפניך שתי צורות.

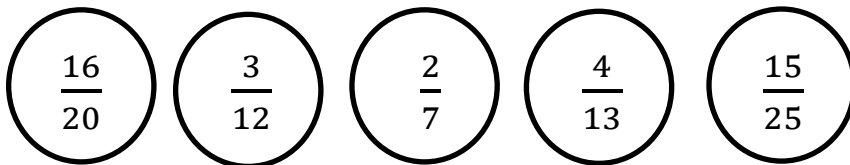


1. האם מספר החלקים בכל צורה שווה? _____

2. האם החלקים הצבועים בצורות אלו שווים בשטחם? _____

3. כיצד נכנה את החלק הצבוע בכל אחת מהצורות? _____


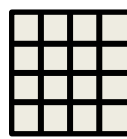
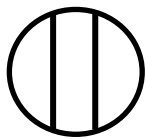
ב. לפניך רשימת שברים:



א. צבעי בצהוב את השברים שאי אפשר לצמצם?

ב. סמני באדום את השברים שניתן לצמצם?

ג. זרקי כל צורה לפח המתאים:







חלקים

שברים

שברים

שברים



אחרים

שווים לשלם

שמכניהם קטנים מ7

שמוניהם 1