

שברים - דף עבודה

1. פתרי את התרגילים הבאים:

$$\frac{4}{5} + \frac{1}{10} =$$

$$\frac{6}{10} + \frac{4}{7} =$$

$$\frac{3}{4} + \frac{2}{8} =$$

$$\frac{5}{6} + \frac{6}{9} =$$

$$\frac{3}{8} + \frac{2}{5} =$$

$$\frac{4}{7} + \frac{2}{6} =$$


2. השלימי את הנעלמים:

$$\frac{3}{8} + \quad = 1$$


$$\frac{3}{7} + \quad = \frac{4}{7}$$

$$\frac{2}{9} + \quad = \frac{5}{9}$$


3. שרטטי וצבעי על פי השברים:



$$\frac{2}{5}$$



$$\frac{1}{4}$$



$$\frac{4}{6}$$

4. חני הביאה לכיתה שוקולד, ובתוך החפיסה היו 30 קוביות ונאכל שליש מהחפיסה, כמה שוקולד נשאר?

תרגיל: _____

תשובה: _____

בהצלחה!