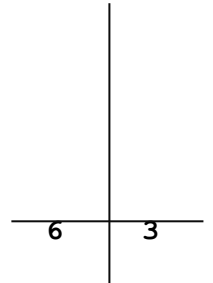
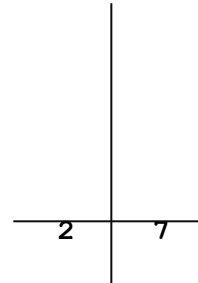
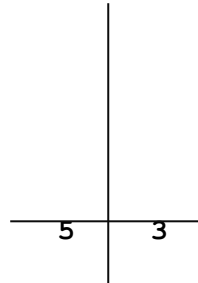
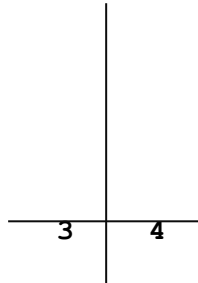
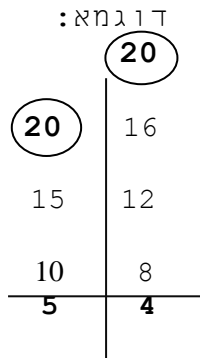
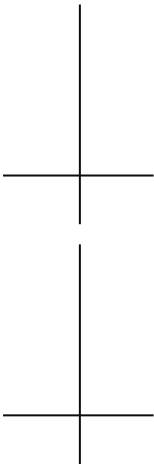


עבודה בשברים

א. מצאי מכנה משותף למספרים הבאים:



ב. פתרי את התרגילים הבאים:



ג. פתרי את הבעיות הבאות:

(1) שמעון קנה סוכרייה ב- שקלים. ועוד, קנה במבה ב- שקלים.

שאלה: כמה שילם שמעון?
תרגיל:

תשובה: _____ -

(2) לחנה יש בארנק 10 שקלים, היא קנתה לאחותה ספר ב- שקלים.

שאלה: כמה עודף קיבלה חנה?
תרגיל:

תשובה: _____