
















כפל וחילוק בספרה 3

א. פתרי את התרגילים הבאים:

$3 \times 3 =$	$3 \times 5 =$	$3 : 3 =$
$3 \times 1 =$	$3 \times 0 =$	$3 : 0 =$
$3 \times 2 =$	$3 \times 10 =$	$3 : 1 =$

ב. חברי תרגיל כפל או חילוק המתאים לציור:

			_____
			_____
			_____
			_____
			
			

ג. בעיות מילוליות:

1) רינה קנתה מחברת אחת, המוכר טעה וביקש ממנה עבור 3 מחברות.

מחיר מחברת אחת הוא 2 שקלים.

שאלה: כמה שילמה עבור המחברת?

תרגיל

תשובה: _____

2) חנה קנתה 30 סוכריות. לכל ילד חילקה 5 סוכריות.

שאלה: כמה ילדים קיבלו סוכריות?

תרגיל:

תשובה: _____

בהצלחה!