

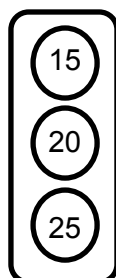
## דף עבודה – חזרה על כפולות

א. פתרי את התרגילים הבאים:

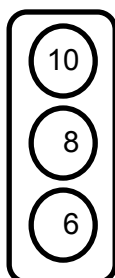
<b>3</b>	<b>X</b>	<b>4</b>	<b>=</b>	
<b>5</b>	<b>X</b>	<b>2</b>	<b>=</b>	
<b>4</b>	<b>X</b>	<b>5</b>	<b>=</b>	
<b>2</b>	<b>X</b>	<b>3</b>	<b>=</b>	
<b>1</b>	<b>X</b>	<b>4</b>	<b>=</b>	
<b>5</b>	<b>X</b>	<b>10</b>	<b>=</b>	

ב. צבעי את התשובה הנכונה בצבע ירוק:

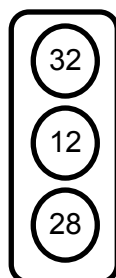
$5 \times 4 =$



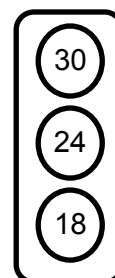
$3 \times 2 =$



$4 \times 7 =$



$5 \times 6 =$



ג. השלימי את החסר בתרגיל:

<b>5</b>	<b>X</b>	<b>3</b>	<b>=</b>	
<b>2</b>	<b>X</b>		<b>=</b>	<b>20</b>
<b>4</b>	<b>X</b>	<b>8</b>	<b>=</b>	
	<b>X</b>	<b>3</b>	<b>=</b>	
<b>2</b>	<b>X</b>	<b>2</b>	<b>=</b>	

בהצלחה!