

כפל וחילוק

דף עבודה

1. קראי את הבעיות שלפנייך והעבירי כל בעיה לשלט המתאים:

כמה פרחים יש באולם, אם יש בו 10 אגרטלים ובכל אגרטל 8 פרחים?

בחדר 5 מיטות ו-3 כסאות כמה רהיטים יש בחדר?

בבית יש 4 חדרים, בכל חדר 3 כסאות, כמה כסאות בבית?

כמה ספרים בארון שיש בו 7 מדפים ובכל מדף 9 ספרים?



3. העבירי קו בין תרגיל לפתרונו!






$8 \times 2 =$

$4 \times 5 =$

$5 \times 3 =$

$36 : 6 =$

$5 \times 5 =$



4. לפנייך בעיות בכפל וחילוק, כתבי תרגיל מתאים!

1. כמה תמונות צלמה משפחת כהן, אם היא מסרה לפיתוח 4 סרטי

צילום ובכל סרט 10 תמונות? _____

2. לאורי 81 בולים, המסודרים ב-9 עמודים.

כמה בולים יש בכל עמוד? _____

3. להודיה 7 פנקסים, בכל פנקס 9 דפים, כמה דפים בכל הפנקסים?

4. כמה צרורות של מפתחות יש לאמא,

אם יש לה 18 מפתחות בסך הכל ובכל צרור יש לה 6 מפתחות?

5. באולם 56 כוסות, באולם 8 שולחנות,

כמה כוסות יש על כל שולחן? _____