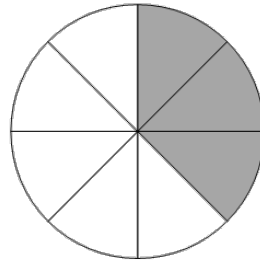


שימי לב:

המכנה של השבר מציין את מס' החלקים השווים אליהם חולק השלם.
 המונה של השבר מציין את מס' החלקים הצבועים בשלם.
 קו הישר מפריד בין המונה למכנה.

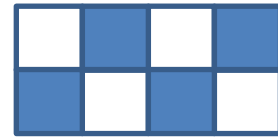
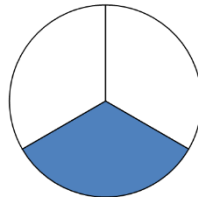
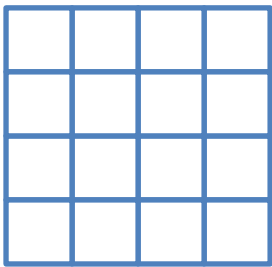


$$\frac{3}{8}$$

מונה- 3
מכנה- 8

עבודה ב'

השלימי לפי הנתון בשרטוט:



❖ חילקנו ל ___ חלקים.

❖ חילקנו ל ___ חלקים.

❖ חילקנו ל ___ חלקים.

❖ צבענו ___ חלקים.

❖ צבענו ___ חלקים.

❖ צבענו ___ חלקים.


.....

.....

❖ שפה חשבונית

.....

❖ שפה חשבונית



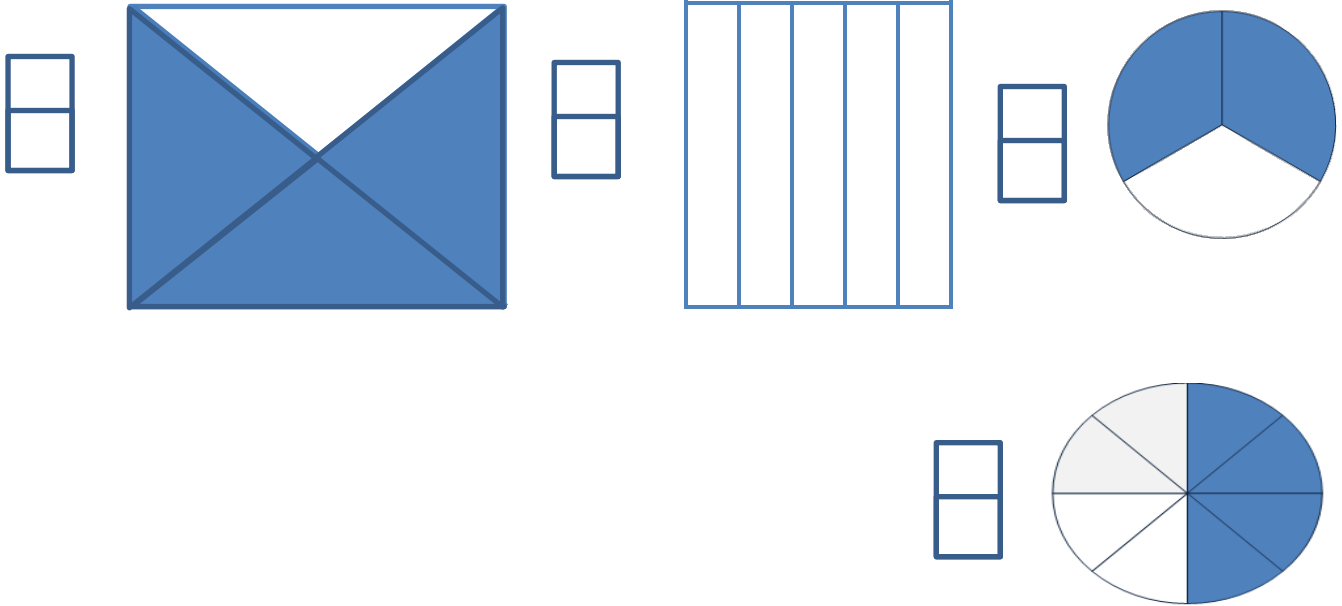
❖ חילקנו ל ___ חלקים.

❖ צבענו ___ חלקים.

.....

עבודה ג':

השלימי שברים מתאימים לשרטוט:



עבודה ד':

הקיפי את השברים שהמונה שלהם שלוש

3	4	2	1	3	3
4	8	3	3	5	6

הקיפי את השברים שהמכנה שלהם שבע

4	3	5	0	7	7
7	1	7	7	10	7