



# שברים

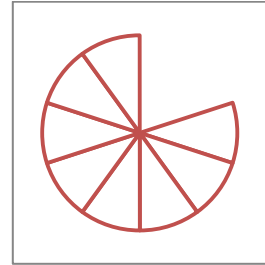
א. 1) צבעי בכל עיגול בהתאם לרשום תחתיו.



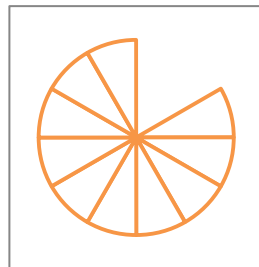
צבעי  $\frac{1}{3}$



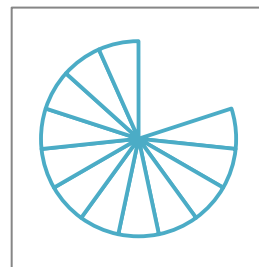
צבעי  $\frac{2}{6}$



צבעי  $\frac{3}{9}$



צבעי  $\frac{4}{12}$



צבעי  $\frac{5}{15}$

2) השלימי שמות שונים ל-  $\frac{1}{3}$ .  $\frac{1}{3} = \frac{\quad}{\quad} = \frac{\quad}{\quad} = \frac{\quad}{\quad} = \frac{\quad}{\quad}$

ב. העזרי באמצעי המחשה, והשיבי.

שושי אבדה את הגזרה של  $\frac{1}{3}$  העגול שהיתה לה.

כיצד תוכל להרכיב גזרה כזו מגזרות של שברים אחרים?

\_\_\_\_\_