

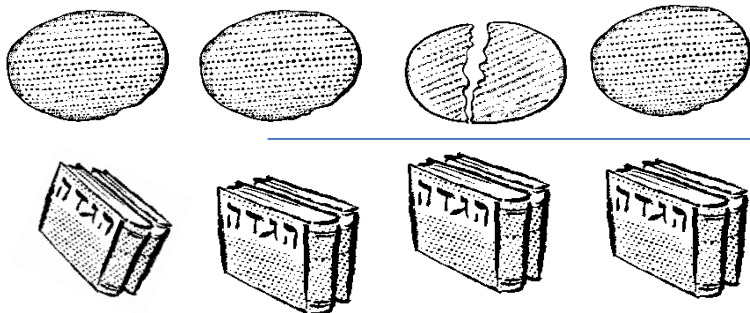
חמץ ומצה

א. כתבי בכל מצה את המספר של התשובה המתאימה:

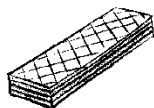
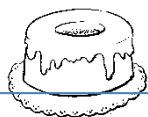


1. מצה שהכנתה במכונה.
2. מצה שהכנתה בידיים.
3. מצה ששמרו את החיטים מהקצירה.


ב. הקף את היוצא דופן



ג. מתחי קו בין המוצרים למקום המתאים:



ד. כתבי את המילים מתחת לכל תמונה:



מצה , גביע , הגדה , קמח