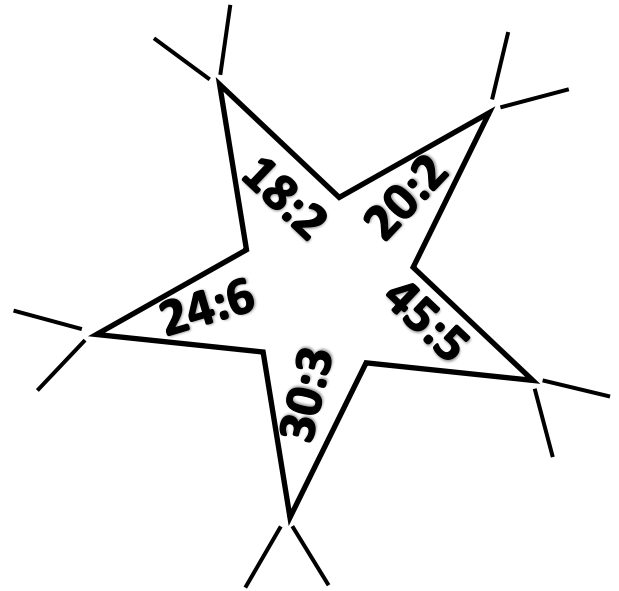
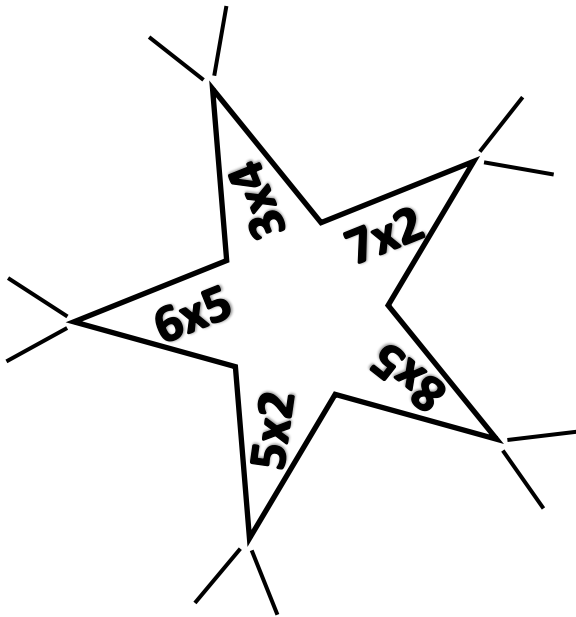
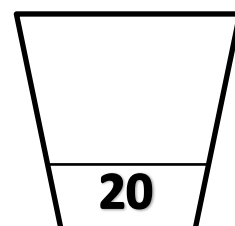
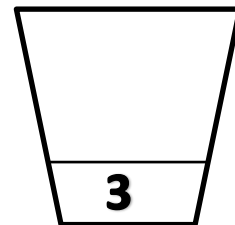
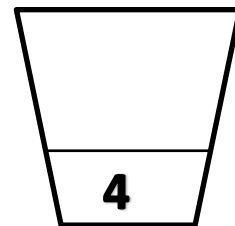
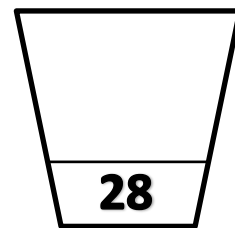


דף עבודה-כפל וחילוק

א. פתרי את התרגילים הבאים:



ב. מתחי קו בין הפרח והעציץ המתאים:



ג. פתרי את התרגילים הבאים:

• הרופא קיבל חולים במשך 3 שעות, כל שעה הוא קיבל 8 חולים כמה חולים קיבל הרופא בסך הכל?
תרגיל: _____

• בחנות 7 אקווריונים, בכל אקווריון 7 דגים, כמה דגים באקווריון בסך הכל?
תרגיל: _____

• כמה צרורות של מפתחות יש לאמא, אם יש לה 18 מפתחות בסך הכל ובכל צרור יש 6 מפתחות?
תרגיל: _____

• לירקן 56 תפוחים, בכל סלסלה 8 תפוחים כמה סלסלות יש לירקן?
תרגיל: _____

• לדני יש 7 פנקסים, בכל פנקס 9 דפים, כמה דפים יש בכל הפנקסים?
תרגיל: _____