

חיסור מספר חד-ספרתי מדו-ספרתי

- תרגול -

א. פרקו את המספר ל-10 ולכמות המצטרפת ל-10. דמיינו כאילו אתם מורידים מן הכמות המצטרפת ל-10 ופתרו את התרגילים.

$$18 - 4 = \square$$

↙ ↘

10    8

$$15 - 2 = \square$$

↙ ↘

$$14 - 3 = \square$$

↙ ↘

$$18 - 5 = \square$$

↙ ↘

$$17 - 3 = \square$$

↙ ↘

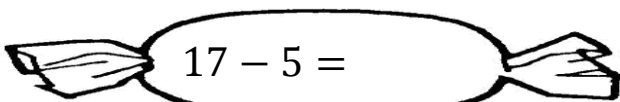
$$19 - 6 = \square$$

↙ ↘

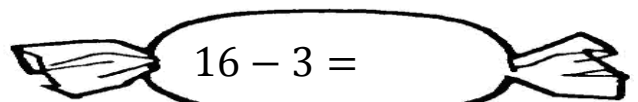
  

ב. פתרו את התרגילים הבאים:

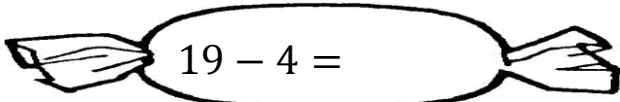
זכרו! אין שינוי ב-10, השינוי הוא רק בתבנית הנוספת!



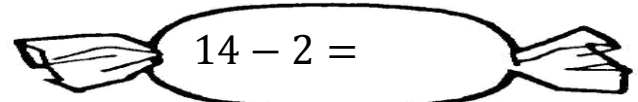
$$17 - 5 =$$



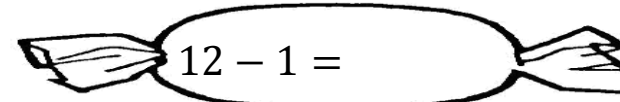
$$16 - 3 =$$



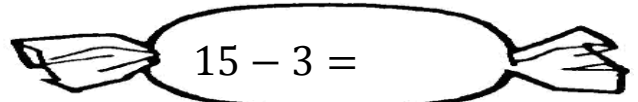
$$19 - 4 =$$



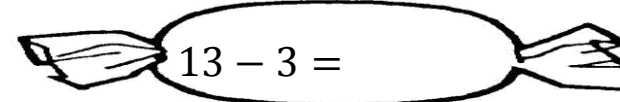
$$14 - 2 =$$



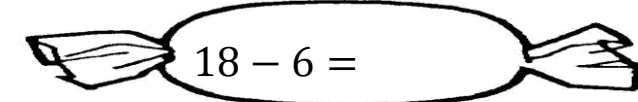
$$12 - 1 =$$



$$15 - 3 =$$



$$13 - 3 =$$



$$18 - 6 =$$

ג. פתרו את התרגילים הפאים בפעורת לוח התבניות :

$$18 - 1 = \underline{\hspace{2cm}}$$

$$14 - 2 = \underline{\hspace{2cm}}$$

$$19 - 4 = \underline{\hspace{2cm}}$$

$$13 - 1 = \underline{\hspace{2cm}}$$

$$17 - 5 = \underline{\hspace{2cm}}$$

$$19 - 7 = \underline{\hspace{2cm}}$$