






חיבור וחיבור במאונך



| | | | |
|---|---|---|---|
| $\begin{array}{r} 14 \\ + \\ \hline 32 \end{array}$ | $\begin{array}{r} 38 \\ + \\ \hline 21 \end{array}$ | $\begin{array}{r} 45 \\ + \\ \hline 50 \end{array}$ | $\begin{array}{r} 20 \\ + \\ \hline 21 \end{array}$ |
| $\begin{array}{r} 94 \\ - \\ \hline 30 \end{array}$ | $\begin{array}{r} 78 \\ - \\ \hline 20 \end{array}$ | $\begin{array}{r} 84 \\ - \\ \hline 23 \end{array}$ | $\begin{array}{r} 55 \\ - \\ \hline 13 \end{array}$ |

בס"ד

מעילים ותרגילים...

**אמא רצתה לעזור למירי לפתור תרגילים במאונך. היא
כתבה על כל המעילים בבית מספרים ובכרטיסים
שהכינה כתבה תרגילים.**

**פתרי את התרגילים ועיזרו למירי לגלות איזה כרטיס
שיך לכל מעיל!**

בהצלחה!!!





חיבור וחיסור במאונך

א. פתרי את התרגילים.

| | | | | | |
|---|-----------|---------|-----------|---------|-----------|
| | ע 74 | ל 25 | ה 62 | מ 47 | ו 43 |
| + | <u>13</u> | + | <u>30</u> | + | <u>31</u> |
| | | | <u>24</u> | | <u>52</u> |
| | ד 53 | ל 89 | ו 23 | ב 52 | ע 45 |
| - | <u>33</u> | - | <u>63</u> | - | <u>31</u> |
| | | | <u>10</u> | | <u>12</u> |

מעל כל תרגיל יש אות. העתיקי את האות המתאימה.
אם פתרת נכון תקבלי משפט!

| | | | | | |
|----|----|----|----|----|--|
| | | | | | |
| 86 | 55 | 18 | 33 | 78 | |

| | | | | | |
|----|----|----|----|----|--|
| | | | | | |
| 26 | 21 | 95 | 21 | 87 | |

ב. הוסיפי לכל תרגיל מספר מן התרמילון ופתרי.


| | | | |
|----------------------|----------------------|----------------------|----------------------|
| 41 | 32 | 54 | 23 |
| + | + | + | + |
| <input type="text"/> | <input type="text"/> | <input type="text"/> | <input type="text"/> |

| | |
|----|----|
| 43 | 51 |
| 24 | 33 |

| | | | |
|----------------------|----------------------|----------------------|----------------------|
| 69 | 76 | 95 | 87 |
| - | - | - | - |
| <input type="text"/> | <input type="text"/> | <input type="text"/> | <input type="text"/> |

| | |
|----|----|
| 15 | 30 |
| 44 | 33 |

ג. אלישבע קבלה לכבוד החג 96 שקלים. היא נכנסה לחנות "הבגד והנעל".
לפנכיים מחיריהם של הפריטים שאלישבע רוצה לקנות!



רשמי 4 אפשרויות של זוגות פריטים שיכולה אלישבע לקנות בכספה.

| התרגיל | הפריטים |
|--------|---------|
| | |
| | |
| | |
| | |
| | |

מהם 2 הפריטים שהסכום של אלישבע לא יספיק לקנותם? רשמי תרגיל במאונך.

הפריטים:

התרגיל:

בהצלחה!!!