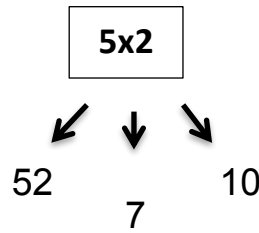
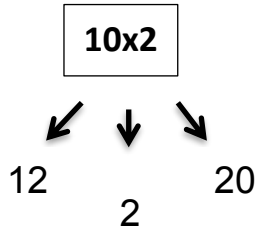
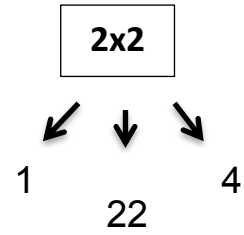
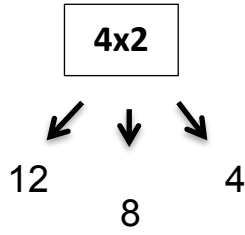
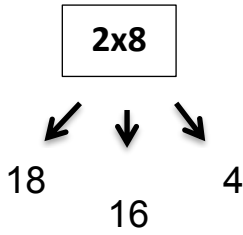
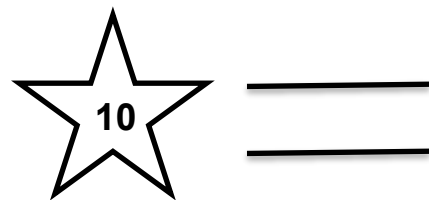

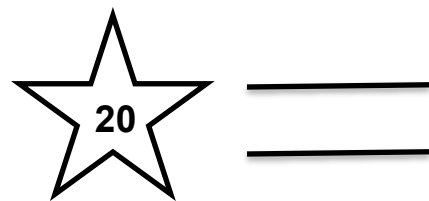



תרגול כפל

א. הקיפי את התוצאה המתאימה:



ב. כתבי 2 תרגילים מתאימים לתוצאה:



ג. פתרי את הבעיות:

1. לכוורן 6 כוורות. בכל כוורת 10 דבורים.

• כמה דבורים בכל הכוורות? _____

• מכל כוורת הוציאו 8 דבורים. כמה דבורים יש כעת בכל כוורת? _____

• כמה דבורים יש כעת בכל הכוורות? _____

2. לאורנה 24 שקלים בארנק. כל אחד מ-6 אחיה הוסיף לה 2 שקלים

• כמה כסף נוסף לה? _____

• כמה כסף יש לה כעת? _____

• אורנה קנתה ממתקים ב-17 שקלים. כמה כסף נותר לה? _____

3. בכיתה 7 שולחנות. בכל שולחן 2 כסאות.

• כמה כסאות בכיתה? _____

• הוציאו שולחן 1 שהיה שבור. כמה כסאות נותרו? _____

• לאחר יומיים הוסיפו 2 שולחנות חדשים. כמה כסאות

בכיתה? _____

בהצלחה רבה!!!