

דף עבודה כפל וחילוק

א.

הקיפי בעגול את התוצאה הנכונה:

$6 \times 9 =$	$3 \times 5 =$	$7 \times 7 =$	$4 \times 4 =$	$6 \times 7 =$
40 • ט	21 • ת	41 • ר	16 • ע	35 • א
54 • ה	15 • ל	60 • צ	24 • ז	50 • ג
38 • ח	30 • נ	49 • י	20 • ב	42 • מ

בכל תוצאה שהקפת כתובה אות חברי את כל האותיות יחד ובדקי מה קיבלת: _____ !




ד. בכתה יש 16 תלמידות




האם אפשר לחלקם לזוגות? _____

האם אפשר לקבוצות של 4 תלמידות בכל קבוצה? _____

האם אפשר לחלקם לקבוצות של 8 תלמידות בכל קבוצה? _____

ב. פתרי:

$30:3=$ 
 $40:8=$ 
 $21:3=$ 

$12:6=$ 
 $30:6=$ 
 $63:7=$ 



ג. בבית ספר אהבת ציון בנות כיתה ו' אספו 10 שקלים מכל תלמידה

לכבוד מסיבת חנוכה

ביום ראשון שילמו 2 תלמידות

ביום השני שילמו עוד 5 תלמידות

1. כמה כסף אספה המורה בשני הימים?

תרגיל: _____ תשובה: _____

ביום השלישי ספרה המורה את כל הכסף ששלמו התלמידות

הסכום היה 80 שקלים

2. כמה תלמידות שילמו עד כה?

תרגיל: _____ תשובה: _____



ד. בחנות מכשירי כתיבה מונחות על המדף מספר חבילות צבעים בכל חבילה יש 6 צבעים חשבי כמה חבילות בכל מדף על פי הנתונים :

מספר צבעים בכל חבילה :	מספר חבילות:	צבעים בסך הכל:
6		36
6		24
6		42
6		54
6		12

ה. מבצע בסופר מרקט

מחיר חבילת סוכריות גדולה 8 שקלים

מחיר חבילת סוכריות קטנה 4 שקלים

המחיר תלוי במספר החבילות הגדלות והקטנות שקונים הציעי אפשריות שונות :

חבילות גדולות:	חבילות קטנות :	הסכום לתשלום:

ו. בחנות פירות היה מבצע ולכן הגיעו קונים וקנו מגוון פירות

חשבי כמה כסף שילם כל קונה :



6 שקלים



4 שקלים



5 שקלים



3 שקלים

1. רחלי קנתה 7 תותים 3 תפוזים :

תרגיל: _____ תשובה : _____

2. יוסי קנה 4 בננות 7 ענבים :

תרגיל: _____ תשובה : _____



3. יעל קנתה 8 תותים ו 21 בנות :

תרגיל : _____ תשובה : _____

4. מירי קנתה 6 תפוזים 4 ענבים :

תרגיל : _____ תשובה : _____

5. יהודה קנה 7 בנות 5 תפוזים :

תרגיל : _____ תשובה : _____

ז. בארון ספרים יש 7 מדפים גדולים ו 3 מדפים קטנים
על כל מדף גדול יש 10 ספרים ועל כל מדף קטן יש 9 ספרים:

1. כמה ספרים יש על כל המדפים הגדולים? _____

2. כמה ספרים יש על כל המדפים הקטנים? _____

3. כמה ספרים יש בסך הכל בכל המדפים? _____

