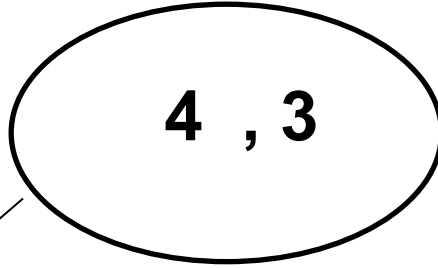




דף עבודה בחשבון

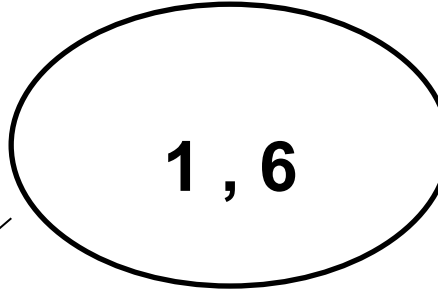
חיבור וחסור תחום ה-7

(1) כתבי תרגיל חיסור וחיבור שהתוצאה שלו שווה ל-7:



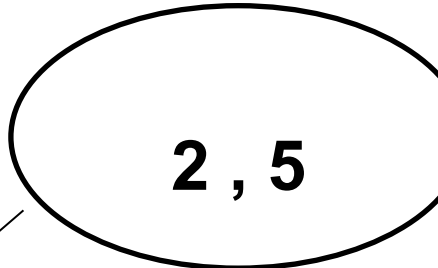
$$\text{-----} + \text{-----} = \text{-----}$$

$$\text{-----} - \text{-----} = \text{-----}$$



$$\text{-----} + \text{-----} = \text{-----}$$

$$\text{-----} - \text{-----} = \text{-----}$$



$$\text{-----} + \text{-----} = \text{-----}$$

$$\text{-----} - \text{-----} = \text{-----}$$