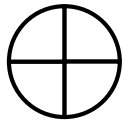


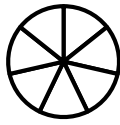


שברים

צבעי את השבר הנתון:



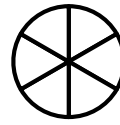
$$\frac{3}{4}$$



$$\frac{5}{7}$$



$$\frac{2}{3}$$



$$\frac{4}{6}$$

פתרי במחברתך.

1. משקל ארגז תפוחים ריק $6\frac{3}{4}$ ק"ג.

משקל התפוחים שבארגז $22\frac{3}{8}$ ק"ג.

מה משקל ארגז התפוחים כולל התכולה שבתוכו? _____

2. בשיעור התעמלות התחרו בקפיצה לגובה 3 תלמידות.

שושנה קפצה $\frac{3}{4}$ מטר.

מרים קפצה $\frac{3}{6}$ מטר.

דינה קפצה $\frac{1}{2}$ מטר.

א. מה ההפרש בין הגובה שקפצה מרים לגובה שקפצה שושנה? _____

ב. מה ההפרש בין הגובה שקפצה מרים לגובה שקפצה דינה? _____

3. תמר קראה ספר במשך שלושה ימים.

ביום א' קראה $\frac{3}{4}$ שעה.

ביום ב' קראה $\frac{1}{2}$ שעה יותר מיום א'.

בסך הכל קראה את הספר במשך 4 שעות.

כמה זמן הקדישה לקריאה ביום ג'? _____

4. משפחת לוי יצאה לטיול משפחתי בצפון הארץ.

המשפחה נסעה באוטובוס במשך $2\frac{1}{2}$ שעות.

לאחר מכן אכלה המישפחה ארוחת צהרים ולאחריה טיילו במשך $3\frac{5}{8}$

שעות.

בסך הכל ארך הטיול $8\frac{1}{4}$ שעות.

כמה זמן אכלה המשפחה ארוחת צהרים? _____