

חילוק

1. השלימי את המספר כך שיתחלק ב-

8___	9___	6___	2___	10___	2
10___	1___	4___	7___	3___	5
9___	5___	1___	10___	2___	10

2. הקיפי את המספר המתחלק...

15	75	32	23	2-ב
105	51	78	99	5-ב
65	70	61	101	2-ב
31	45	35	10	10-ב ו-5-ב

3. השלימי.



א. 35 הוא מספר המתחלק ב-_____.

ב. 72 הוא מספר המתחלק ב-_____.


ג. 60 הוא מספר המתחלק ב-_____ וב-_____ וב-_____.

ד. _____ הוא מספר המתחלק ב-5 וב-10.


4. מתחי קו בין העץ לפירותיו.



מתחלקים ב-2



מתחלקים ב-2



מתחלקים ב-2