

אחוזים %

בס"ד

א. כתבו את האחוז המתאים:

$$\frac{1}{2} = \frac{\quad}{100} =$$

$$\frac{700}{1000} = \frac{\quad}{100} =$$

$$\frac{1}{4} = \frac{\quad}{100} =$$

$$\frac{6}{25} = \frac{\quad}{100} =$$

$$\frac{3}{5} = \frac{\quad}{100} =$$

$$\frac{80}{500} = \frac{\quad}{100} =$$

ב. פתרו את הבעיות!

1. 15% מתלמידי "נאות מרגלית" הולכים ברגל לביה"ס.

50% נוסעים בהסעה מאורגנת והשאר מגיעים ברכבים פרטיים. מהו האחוז התלמידים המגיעים ברכבים פרטיים? _____

2. בקריאת שמות של התלמידות בכיתה ז' מתברר כי אף אחת לא חסרה איזה אחוז מילדי הכיתה נוכחים? _____

בשבר פשוט _____ בשבר עשרוני _____

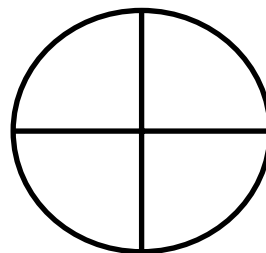

3. בביה"ס "נאות מרגלית" קיים רישום לחוגים. כל תלמיד יכול להירשם לחוג אחד. $\frac{1}{5}$ מהתלמידות נרשמו לחוג התעמלות. 50% לחוג התעמלות ו- 15% לחוג תפירה.

עזרה אחוז לע רשום כלל?





ג. נתונים 2 עיגולים:




1. איזה חלק צבוע בכל ריבוע? א. _____ ב. _____


2. האם החלק הצבוע בכל צורה שונה בשטח? _____

3. איזה אחוז הוא החלק הצבוע? _____


ד. צבעו בעצמכם:



החלק הצבוע קטן ב-25%



החלק הצבוע גדול ב-50%



החלק הצבוע הוא בין 50% ל-75%

בהצלחה!!!