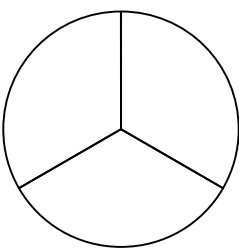
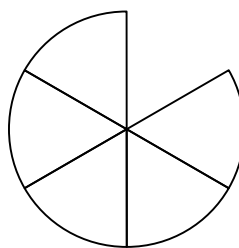
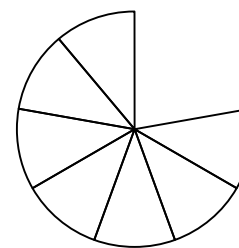
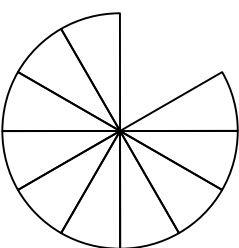
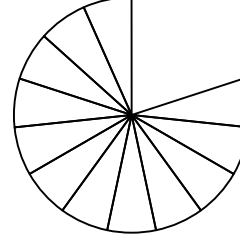


השבר הפשוט

ג. לפניך "קיר שברים" נוסף.

$\frac{1}{3}$			$\frac{1}{3}$			$\frac{1}{3}$			
$\frac{1}{6}$		$\frac{1}{6}$		$\frac{1}{6}$		$\frac{1}{6}$		$\frac{1}{6}$	
$\frac{1}{9}$	$\frac{1}{9}$	$\frac{1}{9}$	$\frac{1}{9}$	$\frac{1}{9}$	$\frac{1}{9}$	$\frac{1}{9}$	$\frac{1}{9}$	$\frac{1}{9}$	

1. צבעי בשורה א' $\frac{3}{9}$ משורת האבנים.
2. צבעי בשורה ב' (מעל החלק הצבוע) $\frac{3}{6}$ מהשורה.
3. צבעי בשורה ג' (מעל החלק הצבוע) $\frac{1}{3}$ מהשורה.
4. השלימי $\frac{1}{3} = \frac{2}{6} = \frac{4}{12}$

 <p>צבעי $\frac{1}{3}$</p>	 <p>צבעי $\frac{2}{6}$</p>	 <p>צבעי $\frac{3}{9}$</p>
 <p>צבעי $\frac{4}{12}$</p>	 <p>צבעי $\frac{5}{15}$</p>	

2. השלימי שמות שונים ל- $\frac{1}{3}$. $\frac{1}{3} = \frac{\quad}{\quad} = \frac{\quad}{\quad} = \frac{\quad}{\quad} = \frac{\quad}{\quad} = \frac{\quad}{\quad}$

ה. העזרי באמצעי המחשה והשיבי .

שושי אבדה את הגזרה של $\frac{1}{3}$ העגול שהיתה לה . כיצד תוכל להרכיב גזרה כזו מגזרות של

שברים אחרים? _____