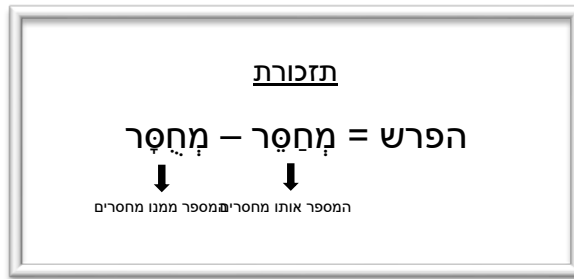


חיסור עם פריטה



1. נסי לפתור את התרגילים ועני:

תרגיל ב':

$$3 \frac{1}{3} - 1 \frac{2}{3} =$$

תרגיל א':

$$3 \frac{2}{3} - 1 \frac{1}{3} =$$

באיזה תרגיל התקשית?

מקל!


השלימי: בתרגיל א' - השבר במחוסר _____ מהשבר במחסר.

בתרגיל ב' - השבר במחוסר _____ מהשבר במחסר.

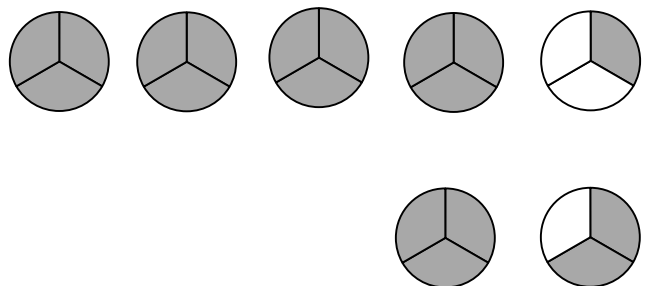
2. נסי לפתור את התרגיל בעיגולים.

התרגיל במספרים

$$3 \frac{1}{3} - 1 \frac{2}{3} =$$



התרגיל בציורים



3. חשבי! – כיצד ניתן לפתור את תרגיל ב'? העזרי בציורים.
