
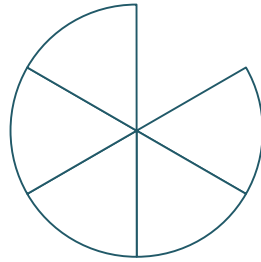


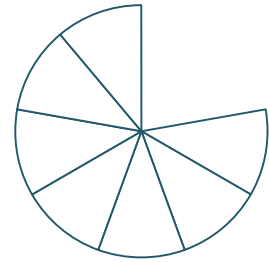
א. צבעי בכל עיגול בהתאם לרשום תחתיו.



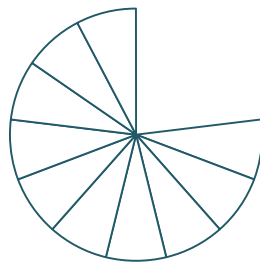
צבעי $\frac{1}{3}$



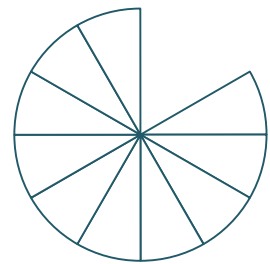
צבעי $\frac{2}{6}$



צבעי $\frac{3}{9}$



צבעי $\frac{4}{12}$



צבעי $\frac{5}{15}$

ב. השלימי שמות שונים ל- $\frac{1}{3}$ = — = — = — = — $\frac{1}{3}$

ג. העזרי באמצעי המחשה, והשיבי.

שושי אבדה את הגזרה של $\frac{1}{3}$ העיגול שהייתה לה. כיצד תוכלי להרכיב גזרה כזו מגזרות של שברים אחרים?
