







דף עבודה - חיבור

1. בני תרגיל על ידי הקפת פרחים שבתבנית שתתאים לתוצאה.

	+		=	8
	+		=	10
	+		=	3

2. כתבי תרגילי חיבור בהתאם למשפטים הבאים:

- לדינה היה 5 בלונים וכשהגיעה הביתה אמא הביאה לה עוד 3 בלונים כמה בלונים לדינה?

-
- רבקי קנתה 2 ביצים כשהגיעה לבית של סבתה גילתה שיש במקרר עוד 4 ביצים כמה ביצים יש?

-
- מרים קטפה 7 פרחים וחברתה רותי הביאה לה עוד פרח אחד כמה פרחים למרים?

3. פתרי את התרגילים הבאים:

$5+3=$

$3+0=$

$6+3=$

$4+2=$

$0+0=$

$7+2=$

$5+5=$

$4+1=$

$0+7=$

$1+1=$

$5+2=$

$9+1=$

$8+0=$

$10+0=$

$6+4=$