

# מחשבים מספרים...

עבודה א' - מתח קו בין השכנים לבית



7.0

2.1

5.4

5.2

8.1




9.0

6.1

3.0

4.3

עבודה ב' - מלא את הקערות הבאות:



## עבודה ג' - השלם את החסר:

$3 + \_ = 7$

$8 + \_ = 9$

$3 + \_ = 4$

$6 + \_ = 8$

$5 + \_ = 5$

$4 + \_ = 5$

$2 + \_ = 3$

$4 + \_ = 6$

$9 + \_ = 9$

$1 + \_ = 2$

$7 + \_ = 7$

$0 + \_ = 2$