

בעיות מילוליות

1. כמה רהיטים יש בחצר שיש בה 15 כסאות ו-13 כורסאות?

תרגיל: =

תשובה במילים: _____

2. על השולחן 19 כלים
16 מתוכם צלחות,
כמה כוסות על השולחן?

תרגיל: =

תשובה במילים: _____

3. בחנות 13 מקררים, ו-16 תנורים.
כמה מכשירי חשמל בחנות?

תרגיל: =

תשובה במילים: _____

4. במוסך 16 כלי רכב. 4 משאיות
והשאר מכוניות.
כמה מכוניות במוסך?

תרגיל: =

תשובה במילים: _____





5. באגרטל 13 פרחים לבנים ו-14 פרחים אדומים כמה פרחים באגרטל בסך הכל?

תרגיל: =

תשובה במילים: _____

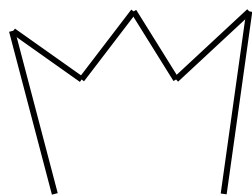
6. אבי פתר 2 תרגילי חיבור ו-6 תרגילי חיסור. כמה תרגילים פתר אבי בסך הכל?

תרגיל: =

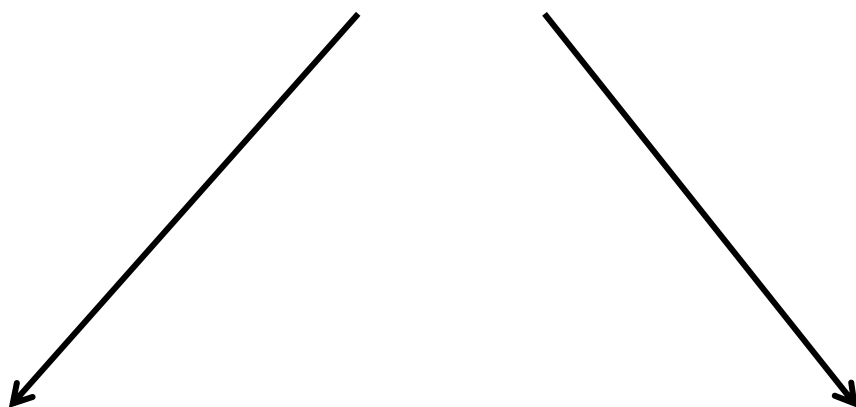
תשובה במילים: _____



ב-ה-צ-ל-ח-ה!




השלם




לא ידוע


ידוע



של



שלם



של





מתח קו מתחת למילים הקשורות לעץ.

עֵלָה, טַבַּעַת, פְּרִי, גִזַּע, חֲתוּל, פְּרָחִים
 זָרַח, פֶּסֶא, שִׁקִּית, בִּקְבוּקָה, שׁוֹרְשֵׁים, עֵט
 עֶפְרוֹן, מֵקֵל רוּפָא, גִּפְרוֹר.

יחיד ורבים.

הַשְּׁלֵם אֶת הַמִּלָּה הַחֲסֵרָה בְּכֹל טוֹר.

יְחִיד	רַבִּים	יְחִיד	רַבִּים
שָׂרֵשׁ		נִצְרִים	
	גִזְעִים	עֵלָה	
זְרוּעַ		פְּרָחִים	
	עֲנָפִים	פְּרִי	
חֹטֵטָר		יְרוּקִים	

בהצלחה!

העץ והלקינו

א.

גִּזְזוּ וְהַדְבִּיקוּ אֶת שְׂמֹת הַלְּקֵי הָעֵץ בַּמָּקוֹם הַנָּכוֹן.



עֲנָפִים	פָּרָחִים	גִּיָּצוֹן	זְרוּעוֹת	שָׁרְשֵׁים
עָלִים	גִּזְזוּ	חוֹטֵר	גִּזְע	

בהצלחה!

תועלת העץ

ג.

לבני האדם:



תַּרְמִילוֹן:
רְהִיטִים, נוֹי וְיוֹפִי, צֵל,
פִּירוֹת, נְדָנְדָה, מְזוּזָה,