




כתבי את התרגיל לפי הציור שלמעלה.















הדביקי את המדבקות לפי התרגיל.

$5+1=\square$	

$5+1=\square$	


$3+3=\square$	


$2+4=\square$	


$0+6=\square$	


$1+5=\square$	


מחק לפי התרגיל.



$6-0=\square$


$6-4=\square$


$6-5=\square$


$6-4=\square$

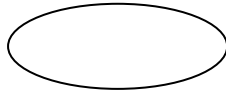

$6-6=\square$


$6-3=\square$



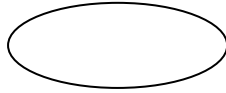
פתרי וסמני <=>.

$6-6=\square$



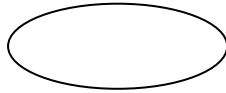
$5+1=\square$

$6-3=\square$



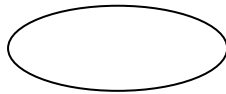
$2+4=\square$

$4+1=\square$



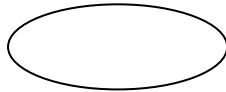
$6-0=\square$

$2+2=\square$



$5-2=\square$

$3+3=\square$



$3-1=\square$


פתרי והעבירי קו לתוצאה.

$2+4=\square$



• $4-1=\square$

$6-2=\square$



• $6-1=\square$

$6-3=\square$



• $2+2=\square$

$4+1=\square$



• $5+1=\square$

$1+3=\square$

• $5-2=\square$