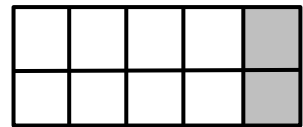
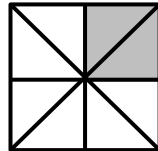
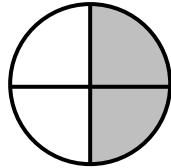



מבחן בחשבון

- שברים -

א. השלם את השבר \ השברים:



ב. השלם: = < >

$$\frac{6}{8} \quad \frac{5}{10}$$

$$\frac{1}{5} \quad \frac{2}{4}$$

$$\frac{2}{8} \quad \frac{1}{4}$$

$$\frac{1}{3} \quad \frac{2}{4}$$

$$\frac{6}{12} \quad \frac{3}{6}$$

ג. כמה הם $\frac{1}{3}$ של 30? ____ . כמה הם $\frac{2}{3}$ של 60? ____ . כמה הם $\frac{1}{4}$ של 100? ____ .

ד. $\frac{1}{3}$ של ____ זה 3. $\frac{1}{2}$ של ____ זה 12. $\frac{1}{4}$ של ____ זה 100.

ה. סרטו צורה של:

$$\frac{5}{8}$$

$$\frac{1}{3}$$

$$\frac{3}{10}$$



בהצלחה רבה!!!

ציון: ____ . ת. הורים: _____